



وزارة التربية

إدارة الشؤون التعليمية
مؤابية الامتحانات وشؤون الطلبة



نموذج الإجابة

المرحلة المتوسطة

اختبارات نهاية الفصل الدراسي الأول

المادة: الاجتماعيات

الصف: السابع

العام الدراسي

2018 / 2017

السؤال الأول: (موضوعي) يتكون من (أ - ب - ج - د) : ((درجة واحدة لكل سؤال))

(أ) أكمل العبارات التالية بما يناسبها مما درست:

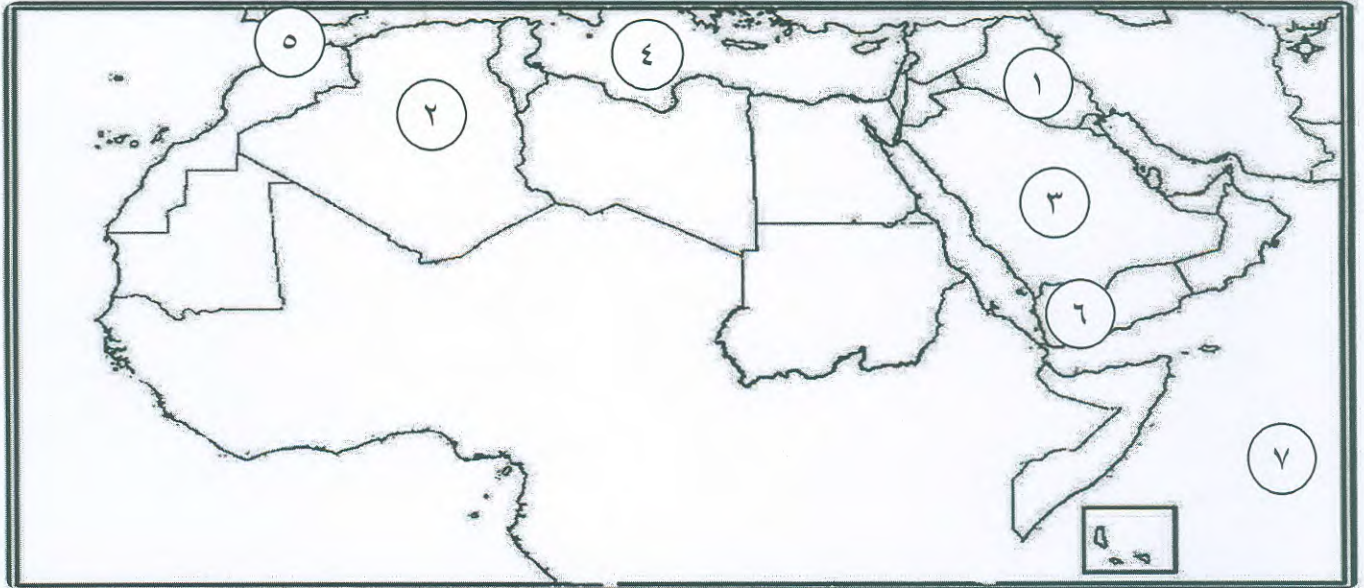
- ١- يمتد الوطن العربي ضمن قارتي آسيا و وقارة أخرى تسمى أفريقيا ص ٢١
- ٢- الدولة العربية التي ظهرت فيها حضارة دلمون تسمى البحرين ص ٨٨
- ٣- ظهرت الكتابة المسمارية في حضارة تسمى بلاد الرافدين ص ٨٣
- ٤- جبل يقع في شمال شرق ليبيا يسمى الجبل الأخضر ص ٣٨
- ٥- تعرف حشائش الإستبس في بلاد المغرب العربي باسم حشائش الحلفا ص ٥٢
- ٦- وصف حلة الجو في مكان ما لمدة قصيرة يسمى الطقس ص ٤٤
- ٧- أكثر دولة إنتاجاً للمياه المحلاة تسمى دولة الكويت ص ٦٢
- ٨- الديانة اليهودية من الديانات السماوية الثلاث نزلت على سيدنا موسى ص ٩٠

(ب) أختار الخيار الصحيح من بين الخيارات التي تلي كل عبارة بوضع خط تحتها:

- ١- أهم الحيوانات السائدة في المنطقة الصحراوية يسمى: ص ٥٥
(الأسد - الإبل - البطريق - الدب)
- ٢- تبلغ مساحة الوطن العربي حوالي: ص ٢٣
(١٣,٥ مليون كم - ١٥ مليون كم - ١٧ مليون كم - ١٩ مليون كم)
- ٣- شريعة حمورابي ظهرت في حضارة تسمى: ص ٨٤
(دلمون - المصرية القديمة - بلاد اليمن - بلاد الرافدين)
- ٤- أرض مرتفعة سطحها مستوي لمساحات كبيرة تسمى: ص ٤٠
(هضبة - جبل - وادي - سهل)
- ٥- عاصمة حضارة سبأ تسمى: ص ٨٥
(معين - ريدان - مأرب - قرناو)
- ٦- تمتد سلسلة جبال أطلس بين الجزائر ودولة أخرى تسمى: ص ٣٨
(مصر - المغرب - لبنان - سوريا)
- ٧- الرياح المحلية التي تهب على دولة الكويت تسمى: ص ٤٨
(الخماسين - القبلي - السيروكو - الطوز)

ج) صوب ما تحته خط في العبارات التالية:

- ١- أهم أشجار الغابات المعتدلة هي شجرة الساج. (الأرز - العرعر - الصنوبر الحلبي - البلوط - السنديان) ص ٥٢
 - ٢- ملكة سبأ التي ورد أسماها بالقرآن الكريم الملكة زنوبيا. (بلقيس) ص ٨٦
 - ٣- يصب كل من نهري دجلة والفرات في البحر الأبيض المتوسط. (الخليج العربي) ص ٥٨
 - ٤- وزن الهواء فوق أي مكان الرطوبة. (الضغط الجوي) ص ٤٤
 - ٥- أنشئت دولة الكويت أول محطة لتحلية مياه البحر عام ١٩٥٣م تسمى محطة الأحمدى. (محطة الشويخ) ص ٦١
 - ٦- كل ما يطرأ على المجتمع من تقدم وتطور ورقي في جميع النواحي الحياة الوطن العربي. (الحضارة) ص ٧١
 - ٧- انتقلت الحضارة العربية الإسلامية إلى أوروبا بفضل مراكز الإشعاع صقلية وبلاد الشام واليمن. (بلاد الأندلس) ص ٩٢
 - ٨- أطلق على البحرين قبل الفتح الإسلامي أسم اللات. (أوال) ص ٨٨
- د) أمامك (خريطة الوطن العربي الصماء) نفذ المطلوب عليها :



- البحر المتوسط يمثله على الخريطة رقم (٤) . ص ٢٣
- هضبة نجد يمثله على الخريطة رقم (٣) . ص ٤٠
- دولة عربية يمر بها خط غرينتش يمثله على الخريطة رقم (٢) . ص ٣١
- حضارة بلاد الرافدين يمثله على الخريطة رقم (١) . ص ٧١
- مضيق جبل طارق يمثله على الخريطة رقم (٥) . ص ٢٩
- حضارة حمير يمثله على الخريطة رقم (٦) . ص ٨٥
- المحيط الهندي يمثله على الخريطة رقم (٧) . ص ٤٧

السؤال الثاني: (مقال) يتكون من (أ - ب - ج):

أ- عرف المفاهيم الآتية:

١- وطن عربي. ص ٢٢ (درجة واحدة)
هو مجموعة من الدول العربية التي يجمعها عدد من السمات المشتركة الدين واللغة ويمتد ضمن قارتين من أكبر قارات العالم مساحة.

٢- مياه جوفية. ص ٦٠ (درجة واحدة)
هي مياه التي توجد في جوف الأرض (باطن الأرض).

٣- مناخ. ص ٤٤ (درجة واحدة)
هو حالة الجو خلال فترة زمنية طويلة من حيث درجة الحرارة والرطوبة والأمطار والرياح.

ب- علل لما يأتي:

١- ازدهرت الزراعة في بلاد الرافدين. ص ٨١ (درجة واحدة)
تربته الخصبة - سعة سهولها - وفرة مياهها.

٢- كانت تعيش أوروبا في القرن العاشر الميلادي في عصور الظلام. ص ٩٢ (درجة واحدة)
بسبب سيطرة الكنيسة على عقول الناس.

٣- حرص المصريين القدماء على تحنيط جثث موتاهم. ص ٧٦ (درجة واحدة)
لاعتقاد المصريين القدماء أن الحياة تعود إلى الجسم بعد الموت ، أي يعتقدوا في ((البعث والخلود)) ولذلك حرصوا على تحنيط جثث موتاهم ، واهتموا ببناء القبور وإقامة المعابد الفخمة للآلهة.

ج- قارن بين كل من السهول الفيضية والسهول الساحلية من حيث الجدول الآتي: ص ٤٢ (أربع درجات)

وجه المقارنة	السهول الفيضية (النهرية)	السهول الساحلية
المفهوم	هي الأراضي المنخفضة التي تكونت من التربة التي حملتها مياه الأنهار.	هي الأراضي المنبسطة التي تجاور سواحل البحار والمحيطات.
مثال	نهر دجلة والفرات- نهر الأردن - نهر النيل - نهر شلبي - نهر جوبا - نهر مجردة - نهر الشليف - نهر سبو - نهر أم الربيع - نهر السوس	السهول الساحلية الشرقية للخليج العربي السهول الساحلية على المحيط الهندي السهول الساحلية للبحر الأحمر سهل العلويين - سهل لبنان - سهل الساحل الفلسطيني - السهول على بحر العرب -سهول المغرب العربي - السهول الساحلية على المحيط الأطلسي - سهول ليبيا

السؤال الثالث: (مقال) يتكون من (أ - ب - ج):

أ- أجب عما يلي:

١- العوامل الرئيسية المؤثرة في تنوع النبات الطبيعي في الوطن العربي. ص ٥١ (درجتان)

- نوع التربة.
- المناخ.

٢- عوامل ساعدت على قيام الحضارة المصرية القديمة. ص ٧٥ (درجتان)


- تنوع الصخور و المعادن.
- امتداد الصحراء نهر النيل.
- اعتدال المناخ وجفافه.

٣- الأنشطة الاقتصادية لسكان حضارة دلمون. ص ٨٨ (درجتان)

- الزراعة.
- صيد الأسماك.
- الغوص على اللؤلؤ.

ب- أجب على المخطط السهمي:

عناصر المناخ. ص ٤٥ (درجتان)



ج- فرق بين كل من الأفلاج والأنهار من حيث المفهوم. (درجتان)

من حيث	الأفلاج ص ٦٠	الأنهار ص ٥٨
المفهوم	الماء الجاري (وهو مجرى صغير مائي في الأرض).	مجري مائي عذب ينحدر على الدوام لينتهي إلى بحر أو نهر آخر أو ينتهي تدريجياً في الصحراء

السؤال الرابع: (مقالى) يتكون من (أ - ب - ج):

أ- دلل على صحة العبارات التالية:

١- ((يؤثر القرب أو البعد عن خط الاستواء في مناخ الإقليم)) . ص ٤٦ (درجتان)
يؤثر القرب أو البعد عن خط الاستواء في مناخ الإقليم ، فالأماكن القريبة من خط الاستواء تتميز بارتفاع في درجة حرارتها على مدار أيام السنة وهي أكثر اعتدالاً في المناخ ، فالأماكن البعيدة من خط الاستواء تنخفض فيها درجة الحرارة.

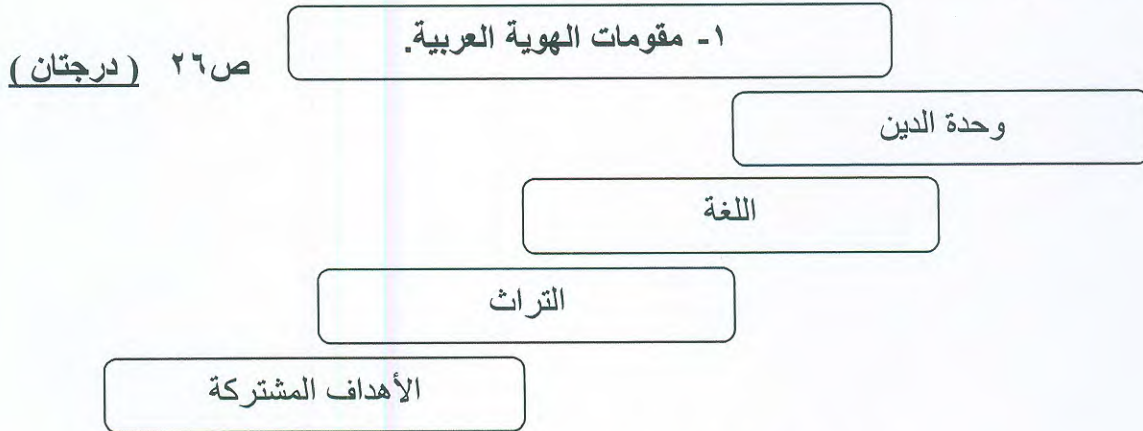
٢- ((يتمتع الوطن العربي بأهمية اقتصادية كبيرة منذ القدم)) . ص ٣٥ (درجتان)
• يعتبر منطقة عبور لحركة التجارة والملاحة العالمية.
• وهو جسر الذي يربط قارات العالم الثلاث (أفريقيا - آسيا - أوربا) بمواردها الهائلة وال ضخمة.
• سكان الوطن العربي يشكلون ٥ % تقريباً من سكان العالم.
• ظهور النفط بكميات كبيرة في منطقة الخليج العربي و شبه الجزيرة العربية و شمال أفريقيا.

٣- ((أكتسب الوطن العربي أهمية روحية مقدسة)) . ص ٩٠ (درجتان)
يعتبر الوطن العربي مهد الديانات السماوية الثلاث (اليهودية - المسيحية - الإسلامية) التي انتشرت في أنحاء العالم

ب- أكتب ما تعرفه عن:

١- بما يتصف المطر في الوطن العربي. ص ٥٩ (درجتان)
• تنذب كمية الأمطار بين عام وآخر ، كما تسقط في أيام معدودة.
• الأمطار في الوطن العربي تكاد تقتصر على الأطراف الشمالية والأطراف الجنوبية منها.
• تتصف الأمطار بأنها قليلة بصفة عامة ، ويستثنى من ذلك المناطق التي تقع من ورائها الجبال كما سواحل المغرب وسواحل لبنان.

ج- أجب عما يلي:



مع تمنيات التوجيه الفني للاجتماعيات لكم بالتوفيق و النجاح